

Roll No.
रोल नं.

--	--	--	--	--

100122

Code No. **038**

Candidates must write the Code on the title page of the answer-book.

परीक्षार्थी कोड को उत्तर-पुस्तिका के मुख-पृष्ठ पर अवश्य लिखें।

SOCIAL SCIENCE सामाजिक विज्ञान

General Instructions :

सामान्य निर्देश :

Read the following instructions very carefully and strictly follow them :

निम्नलिखित निर्देशों को ध्यान से पढ़ें एवं पूर्णरूप से उनका अनुपालन करें।

Time allowed : 3 hours

Maximum marks : 80

निर्धारित समय : 3 घंटे

अधिकतम अंक : 80

- (i) Please check that this question paper contains 23 printed pages.
कृपया जाँच कर लें कि इस प्रश्न-पत्र में 23 मुद्रित पृष्ठ हैं।
- (ii) Code number given on the right hand side of the question paper should be written on the title page of the answer-book by the candidate.
प्रश्न-पत्र में दाहिने हाथ की ओर दिए-गए कोड नम्बर को छात्र उत्तर-पुस्तिका के मुख-पृष्ठ पर लिखें।
- (iii) Please check that this question paper contains 37 questions.
कृपया जाँच कर लें कि इस प्रश्न-पत्र में 37 प्रश्न हैं।
- (iv) Please write down the Serial Number of the question in the answer-book before attempting it.
कृपया प्रश्न का उत्तर लिखना शुरू करने से पहले, उत्तर पुस्तिका में प्रश्न का क्रमांक अवश्य लिखें।
- (v) 15 minutes time has been allotted to read the question paper. The question paper will be distributed at 10.15 a.m. From 10.15 a.m. to 10.30 a.m., the students will read the question paper only and will not write any answer in the answer-book during this period.
इस प्रश्न-पत्र को पढ़ने के लिए 15 मिनट का समय दिया गया है। प्रश्न-पत्र का वितरण पूर्वाह्न में 10.15 बजे किया जाएगा। 10.15 बजे से 10.30 बजे तक छात्र केवल प्रश्न-पत्र को पढ़ेंगे और इस अवधि के दौरान वे उत्तर-पुस्तिका में कोई उत्तर नहीं लिखेंगे।

- (vi) This question paper comprises six sections - A, B, C, D, E and F. All questions are compulsory. प्रश्न-पत्र को छः खंडों में विभाजित किया गया है - क, ख, ग, घ, ङ एवं च। सभी प्रश्न अनिवार्य हैं।
- (vii) Section A - Question No. 1 to 20 are Multiple choice questions, carrying 1 mark each. खंड - क के प्रश्न संख्या 1 से 20 तक बहुविकल्पीय प्रकार के प्रश्न हैं, प्रत्येक प्रश्न 1 अंक का है।
- (viii) Section B - Question No. 21 to 24 are very short answer type questions, carrying 2 marks each. Answer to these questions should not exceed 40 words. खंड - ख में प्रश्न संख्या 21 से 24 तक अतिलघुत्तरीय प्रकार के प्रश्न हैं। प्रत्येक प्रश्न 2 अंक का है। प्रत्येक प्रश्न का उत्तर 40 शब्दों से अधिक नहीं होना चाहिए।
- (ix) Section C - Question No. 25 to 29 are short answer type questions, carrying 3 marks each. Answer to these questions should not exceed 60 words. खंड - ग में प्रश्न संख्या 25 से 29 तक लघु उत्तरीय प्रकार के प्रश्न हैं। प्रत्येक प्रश्न 3 अंक का है। प्रत्येक प्रश्न का उत्तर 60 शब्दों से अधिक नहीं होना चाहिए।
- (x) Section D Question No. 30 to 33 are long answer type questions, carrying 5 marks each. Answer to these questions should not exceed 120 words. खंड - घ - प्रश्न 30 से 33 तक दीर्घउत्तरीय प्रश्न है। प्रत्येक प्रश्न 5 अंक का है। प्रत्येक प्रश्न का उत्तर 120 शब्दों से अधिक नहीं होना चाहिए।
- (xi) Section E Question No. 34 to 36 are case based questions with three sub-questions and are of 4 marks each. खंड-ङ प्रश्न 34 से 36 तक स्रोत आधारित प्रश्न हैं जिनमें तीन उप-प्रश्न है और प्रत्येक प्रश्न के 4 अंक है।
- (xii) Section F Question No. 37 is Map Skill Based Question carrying 5 marks with parts (A) from History (2 marks) and (B) from Geography (3 marks) खंड-च में प्रश्न संख्या 37 मानचित्र कौशल आधारित है, यह प्रश्न 5 अंक का है जो कि इतिहास से भाग (A)-(2 अंक) तथा भूगोल से भाग (B)-(3अंक) संबंधित है।
- (xiii) Answers should be brief and to the point. Also the above word limit should be adhered to, as far as possible. उत्तर संक्षिप्त तथा बिंदुवार होना चाहिए और साथ ही उपरोक्त शब्द-सीमा का यथासंभव पालन कीजिए।
- (xiv) There is no overall choice in the question paper. However, internal choice has been provided in some questions in each Section. Only one of the choices in such questions has to be attempted. प्रश्न-पत्र में समग्र पर कोई विकल्प नहीं है। तथापि कुछ प्रश्नों में आंतरिक विकल्प दिए गए हैं। ऐसे प्रश्नों में केवल एक ही विकल्प का उत्तर लिखिए।
- (xv) Cut the MAP from your question paper and attach it to your answer book. प्रश्न पत्र के अंत में दिए गए मानचित्र को काट कर अपनी उत्तर-पुस्तिका के साथ संलग्न करें।
- (xvi) In addition to this, separate instructions are given with each section and question, wherever necessary. इसके अतिरिक्त, आवश्यकतानुसार, प्रत्येक खंड और प्रश्न के साथ यथोचित निर्देश दिए गए हैं।

SECTION - A / खण्ड - क

MULTIPLE CHOICE QUESTIONS/बहु विकल्पीय प्रश्न

1x20=20

1. The Silk route linked Asia with which of the following ? 1

- (a) Europe (b) North Africa
(c) America (d) (a) and (b) both

सिल्क मार्ग ने एशिया को निम्नलिखित में से किसके साथ जोड़ा ?

- (a) यूरोप (b) उत्तरी अफ्रीका
(c) अमेरिका (d) (a) और (b) दोनों

2. Who introduced Printing Press in India ? 1

- (a) French missionaries (b) Italian missionaries
(c) Portugese missionaries (d) Dutch missionaries

भारत में प्रिंटिंग प्रेस की शुरुआत किसने की ?

- (a) फ्रांसीसी धर्म प्रचारकों ने (b) इटेलियन धर्म प्रचारकों ने
(c) पुर्तगाली धर्म प्रचारकों ने (d) डच धर्म प्रचारकों ने

3. Which social evil has been addressed in the book 'Gulamgiri' ? 1

- (a) Injustice of the caste system.
(b) The link between caste and caste exploitation.
(c) The miserable lives of upper caste Hindu women.
(d) Tradition of Sati.

'गुलामगिरी' पुस्तक में किस सामाजिक बुराई को संबोधित किया गया है ?

- (a) जातिप्रथा के अत्याचार।
(b) जातीय तथा वर्गीय शोषण के बीच का रिश्ता।
(c) उच्च जाति की नारियों की दयनीय हालत।
(d) सती प्रथा।

4. Study the picture and answer the question that follows :

1



Which of the following options best signifies the image of 'Germania' ?

- (a) As a protector of Germany.
- (b) Beginning of new era.
- (c) As a protector of German Rhine.
- (d) Symbol of the German empire.

दिए गए चित्र का अध्ययन करें और नीचे दिए गए प्रश्न का उत्तर दें।



निम्न में से कौन सा विकल्प 'जर्मनिया' की छवि को सबसे अच्छा दर्शाता है ?

- (a) जर्मनी के रक्षक के रूप में।
- (b) एक नए युग का सूत्रपात।
- (c) जर्मन राइन के रक्षक के रूप में।
- (d) जर्मन साम्राज्य की प्रतीक-शक्ति।

Note : The following question is for visually impaired candidates only in lieu of Q.No. 4.

Romanticism refers to as a :

- (a) cultural movement (b) religious movement
(c) political movement (d) literary movement

नोट : निम्नलिखित प्रश्न केवल प्रश्न संख्या 4 के स्थान पर दृष्टिबाधित छात्रों के लिए है।

रुमानिवाद क्या संदर्भित करता है ?

- (a) सांस्कृतिक आंदोलन (b) धार्मिक आंदोलन
(c) राजनैतिक आंदोलन (d) साहित्यिक आंदोलन

5. Identify the cropping season with the help of the following information: 1

- These crops are grown with the onset of monsoon in different parts of the country.
 - These are harvested in September-October.
 - Important crops are paddy, maize, bajra etc.
- (a) Rabi (b) Kharif (c) Zaid (d) Both (a) and (c)

निम्नलिखित जानकारी की सहायता से शस्य ऋतु की पहचान करें।

- इन फसलों को देश के विभिन्न क्षेत्रों में मानसून के आगमन के साथ बोई जाती है।
- ये सितंबर -अक्टूबर में काट ली जाती हैं।
- चावल, मक्का, बाजरा, आदि मुख्य फसलें हैं।

- (a) रबी (b) खरीफ (c) जायद (d) (a) और (c) दोनों

6. Consider the following statements about Reserved Forests. Which statement is INCORRECT? 1

- (a) Reserved forests are owned by the government and all the human activities are not allowed in these forests.
- (b) These forests are regarded as the most valuable forests in terms of conservation of forests and wildlife.
- (c) These forests constitute about more than half of the total forest land in India.
- (d) These forests are owned by the government but the local people are allowed to collect fuel wood, grazing their cattle etc.

आरक्षित वन के संदर्भ में निम्नलिखित में से कौन सा कथन गलत है ?

- (a) आरक्षित वन सरकार की संपत्ति है, स्थानीय लोगों की आवाजाही निषिद्ध है।
- (b) जहाँ तक वन और वन्य प्राणियों के संरक्षण की बात है, आरक्षित वनों को सर्वाधिक मूल्यवान माना जाता है।
- (c) देश में आधे से अधिक वनक्षेत्र आरक्षित वन घोषित किए गये हैं।
- (d) आरक्षित वन सरकार की संपत्ति है परन्तु व्यक्तियों और समुदायों के स्वामित्व में होते हैं। लोगों की आवाजाही में रोक टोक नहीं है।

7. Match the following :

Type of soil	Characteristics
(A) Black soil	(i) It has more fine particles and is more fertile
(B) Khadar soil	(ii) It is made up of extremely fine i.e. clayey material
(C) Laterite soil	(iii) Lacks humus and moisture
(D) Arid soil	(iv) Generally deficient in plant nutrients

Options :

- (a) (A)-(ii), (B)-(i), (C)-(iv), (D)-(iii)
(b) (A)-(iv), (B)-(iii), (C)-(ii), (D)-(i)
(c) (A)-(iii), (B)-(iv), (C)-(i), (D)-(ii)
(d) (A)-(i), (B)-(ii), (C)-(iii), (D)-(iv)

निम्नलिखित का मिलान करें :

मृदा (मिट्टी) का प्रकार	विशेषता
(A) काली मृदा	(i) इसमें ज्यादा महीन कण पाए जाते हैं।
(B) खादर मृदा	(ii) यह बहुत महीन कणों अर्थात मृत्तिका से बनी है।
(C) लेटराइट मृदा	(iii) इसमें ह्यूमस और नमी की मात्रा कम होती है।
(D) मरुस्थली मृदा	(iv) इसमें सामान्यतः पौधों के पोषक तत्वों की कमी होती है।

विकल्प :

- (a) (A)-(ii), (B)-(i), (C)-(iv), (D)-(iii)
(b) (A)-(iv), (B)-(iii), (C)-(ii), (D)-(i)
(c) (A)-(iii), (B)-(iv), (C)-(i), (D)-(ii)
(d) (A)-(i), (B)-(ii), (C)-(iii), (D)-(iv)

8. Consider the following statements with regard to power sharing. Select the **INCORRECT** statement from the following : 1

- (a) It is good for democracy.
(b) It creates harmony in different groups.
(c) It brings transparency in the governance.
(d) The political power should be distributed among as few as possible.

सत्ता की साझेदारी के संबंध में निम्नलिखित कथनों पर विचार करें। निम्नलिखित में से गलत कथन का चयन करें।

- (a) यह लोकतन्त्र के लिए अच्छा है।
(b) यह विभिन्न समूहों में सामंजस्य बनाता है।
(c) यह शासन में पारदर्शिता लाता है।
(d) राजनीतिक शक्ति को यथासंभव कुछ लोगों के बीच ही वितरित किया जाना चाहिए।

9. Match Column A with Column B :

1

Column A

Column B

- | | |
|--------------------------|---|
| (A) Union territory | (i) Decision making body for the entire village. |
| (B) Gram Panchayat | (ii) An alliance of two or more than two political parties. |
| (C) Coalition Government | (iii) A representative body at District level. |
| (D) Zila Parishad | (iv) An area which is run by the Union/Central Government. |

Options :

- (a) (A)-(ii), (B)-(iii), (C)-(iv),(D)-(i)
(b) (A)-(iv), (B)-(i), (C)-(ii),(D)-(iii)
(c) (A)-(iii), (B)-(iv), (C)-(i),(D)-(ii)
(d) (A)-(i), (B)-(ii), (C)-(iii),(D)-(iv)

कॉलम A

कॉलम B

- | | |
|--------------------------|---|
| (A) केन्द्र शासित प्रदेश | (i) पूरे गाँव के लिए फैसला लेने वाली संस्था। |
| (B) ग्राम पंचायत | (ii) दो या दो से ज्यादा राजनीतिक दलों का गठबंधन। |
| (C) गठबंधन सरकार | (iii) जिला स्तर पर एक प्रतिनिधि इकाई। |
| (D) जिला परिषद | (iv) एक क्षेत्र जो संघ/केन्द्र सरकार द्वारा संचालित किया जाता है। |

विकल्प :

- (a) (A)-(ii), (B)-(iii), (C)-(iv),(D)-(i)
(b) (A)-(iv), (B)-(i), (C)-(ii),(D)-(iii)
(c) (A)-(iii), (B)-(iv), (C)-(i),(D)-(ii)
(d) (A)-(i), (B)-(ii), (C)-(iii),(D)-(iv)

10. Consider the following statements in relation to the meaning of Communal Politics. 1

Communal politics is based on the belief that :

- (i) One religion is superior to that of others.
- (ii) People belonging to different religions can live together happily as equal citizens.
- (iii) Followers of a particular religion constitute one community.
- (iv) State power cannot be used to establish the domination of one religious group over others.

Which of the following combinations are correct ?

- (a) (i) (ii) (iii) (iv)
- (b) (i) (ii) & (iv)
- (c) (i) & (iii)
- (d) (ii) & (iv)

सांप्रदायिक राजनीति के अर्थ के संबंध में निम्नलिखित कथनों पर विचार करें।

सांप्रदायिक राजनीति इस सोच पर आधारित होती है कि -

- (i) एक धर्म दूसरे से श्रेष्ठ है।
- (ii) विभिन्न धर्मों के लोग समान नागरिक के रूप में एक साथ रह सकते हैं।
- (iii) एक खास धर्म में आस्था रखने वाले लोग एक ही समुदाय के होते हैं।
- (iv) राज्य की शक्ति का उपयोग एक धार्मिक समूह का दूसरे पर प्रभुत्व स्थापित करने के लिए नहीं किया जा सकता है।

निम्नलिखित में से कौन सा संयोजन सही है ?

- (a) (i) (ii) (iii) और (iv)
- (b) (i) (ii) और (iv)
- (c) (i) और (iii)
- (d) (ii) और (iv)

11. Arrange the following political parties in chronological order of the year of their formation : 1

- (i) All India Trinamool Congress
- (ii) Nationalist Congress Party
- (iii) Communist Party of India (CPI)
- (iv) Bahujan Samaj Party

Options :

- (a) (ii), (i), (iii), (iv)
- (b) (i), (iii), (ii), (iv)
- (c) (iii), (iv), (i), (ii)
- (d) (iv), (ii), (i), (iii)

निम्नलिखित राजनीतिक दलों को उनके गठन के वर्ष के कालानुक्रमिक क्रम में व्यवस्थित करें -

- (i) ऑल इंडिया तृणमूल काँग्रेस
- (ii) नेशनलिस्ट काँग्रेस पार्टी
- (iii) कम्यूनिस्ट पार्टी ऑफ इंडिया
- (iv) बहुजन समाज पार्टी

विकल्प :

- (a) (ii), (i), (iii), (iv)
- (b) (i), (iii), (ii), (iv)
- (c) (iii), (iv), (i), (ii)
- (d) (iv), (ii), (i), (iii)

12. There are two statements marked as **Assertion (A)** and **Reason (R)**. Mark your answer as per the code provided below : 1

Assertion (A) : Democracy is based on the idea of deliberation and negotiation.

Reason (R) : Democratic government develops a mechanism for citizens to take active part in decision making.

- (a) Both (A) and (R) are true and (R) is the correct explanation of (A).
(b) Both (A) and (R) are true but (R) is not the correct explanation of (A).
(c) (A) is true but (R) is false.
(d) (A) is false but (R) is true.

अभिकथन और कारण के रूप में चिन्हित दो कथन हैं । नीचे दिए गए कोड्स के अनुसार अपना उत्तर अंकित करें -

अभिकथन : लोकतन्त्र में बातचीत और मोलतोल के आधार पर काम चलता है।

कारण : लोकतन्त्र नागरिकों को निर्णय लेने में सक्रिय भाग लेने के लिए एक तन्त्र विकसित करता है।

- (a) अभिकथन और कारण दोनों सत्य हैं और कारण अभिकथन की सही व्याख्या है।
(b) अभिकथन और कारण दोनों सत्य हैं परन्तु कारण, अभिकथन की सही व्याख्या नहीं है।
(c) अभिकथन सत्य है परन्तु कारण असत्य है।
(d) अभिकथन असत्य है परन्तु कारण सत्य है।

13. What is the significance of year 1970-1993 with regard to Belgium ? 1

- (a) There was Civil war in the country.
(b) The Community Government was established.
(c) The headquarters of European Union was established in Brussels.
(d) They amended their Constitution four times to accommodate regional differences and cultural diversity.

बेल्जियम के संबंध में वर्ष 1970-1993 का क्या महत्व है ?

- (a) देश में गृहयुद्ध था।
(b) सामुदायिक सरकार की स्थापना की गई।
(c) ब्रूसेल्स में यूरोपीय संघ के मुख्यालय की स्थापना की गई।
(d) उन्होंने क्षेत्रीय मतभेदों और सांस्कृतिक विविधता को समायोजित करने के लिए अपने संविधान में चार बार संशोधन किया।

14.

TABLE 1.4 SOME COMPARATIVE DATA ON HARYANA, KERALA AND BIHAR			
State	Infant Mortality Rate per 1,000 live births (2018)	Literacy Rate %	Net Attendance Ratio (per 100 persons) secondary stage (age 14 and 15 years) 2017-18
		2017-2018	
Haryana	30	82	61
Kerala	7	94	83
Bihar	32	62	43

Sources : Economic Survey 2020-21, P.A 157 volume-2, National Sample Survey Organisation (Report No. 585). National statistical office, Government of India.

Considering the given comparative data in the above table choose the correct option of States in descending order of their state of affairs :

- (a) Haryana, Kerala, Bihar (b) Bihar, Haryana, Kerala
(c) Haryana, Bihar, Kerala (d) Kerala, Haryana, Bihar

तालिका 1.4 हरियाणा, केरल और बिहार के कुछ तुलनात्मक आँकड़े			
राज्य	शिशु मृत्यु दर प्रति 1,000 व्यक्ति (2018)	साक्षरता दर%	निव्वल उपस्थिति अनुपात (प्रति 100 व्यक्ति) माध्यमिक स्तर (आयु 14 तथा 15 वर्ष) 2017-18
		2017-2018	
हरियाणा	30	82	61
केरल	7	94	83
बिहार	32	62	43

स्रोत: आर्थिक सर्वेक्षण, 2020-21 P.A. 157 वाल्युम 2. राष्ट्रीय सांख्यिकी कार्यालय, भारत सरकार, राष्ट्रीय नमूना सर्वेक्षण (रिपोर्ट संख्या 585)

उपरोक्त तालिका में दिए गए तुलनात्मक आँकड़ों पर विचार करते हुए राज्यों की स्थिति के अवरोही क्रम में सही विकल्प का चयन करें।

- (a) हरियाणा, केरल, बिहार (b) बिहार, हरियाणा, केरल
(c) हरियाणा, बिहार, केरल (d) केरल, हरियाणा, बिहार

15. Arrange the following in the correct sequence :

1

- (i) Transporting cloth to the workshops.
- (ii) Sale in shops and showrooms.
- (iii) Spinning the yarn.
- (iv) Weaving of the fabric.

Options :

- | | |
|----------------------------|----------------------------|
| (a) (i), (iv), (iii), (ii) | (b) (iii), (iv), (i), (ii) |
| (c) (iv), (i), (ii), (iii) | (d) (iii), (iv), (ii), (i) |

निम्नलिखित तथ्यों को सही क्रम में लिखें :

- | | |
|----------------------------------|---|
| (i) कपड़े को वर्कशॉप तक ले जाना। | (ii) कपड़ों की बिक्री दुकान अथवा शोरूम में। |
| (iii) धागे की कताई। | (iv) कपड़े की बुनाई कर, कपड़ा तैयार करना। |

विकल्प :

- | | |
|----------------------------|----------------------------|
| (a) (i), (iv), (iii), (ii) | (b) (iii), (iv), (i), (ii) |
| (c) (iv), (i), (ii), (iii) | (d) (iii), (iv), (ii), (i) |

16. Find the odd one out from the following options :

1

- (a) Krishak Cooperative, Punjab National Bank, Self-Help Group.
- (b) Landlords, friends, money lenders.
- (c) Reserve Bank of India, Bank of Baroda, The State Bank of India.
- (d) Commercial Banks, Cooperative Societies, Cooperative Banks.

निम्नलिखित में से विषम विकल्प को चिन्हित करें :

- (a) कृषक सहकारी समिती, पंजाब नेशनल बैंक, स्वयं सहायता समूह
- (b) जमींदार, दोस्त, साहुकार
- (c) रिज़र्व बैंक ऑफ इन्डिया, बैंक ऑफ बड़ौदा, स्टेट बैंक ऑफ इन्डिया
- (d) वाणिज्यिक बैंक, सहकारी समितियाँ, सहकारी बैंक

17. Fill in the blank :

Column A

- (A) Primary Sector
(B) Organised Sector

Column B

- (i) ?
(ii) Fixed hours of work

Options :

- (a) Provide personal services like barbers, lawyers etc.
(b) Exploit natural resources.
(c) Industrial activity.
(d) Low paid jobs.

रिक्त स्थान की पूर्ति करें :

कॉलम - A

- (A) प्राथमिक क्षेत्रक
(B) संगठित क्षेत्रक

कॉलम - B

- (i) ?
(ii) काम के निश्चित घंटे

विकल्प :

- (a) धोबी, वकील जैसी व्यक्तिगत सेवाएँ उपलब्ध कराते हैं।
(b) प्राकृतिक संसाधनों का दोहन करता है।
(c) औद्योगिक गतिविधि।
(d) कम वेतन वाली नौकरियाँ।

18. Sridhar works in a Government office and depends on loans from formal sector in times of need.

Which of the following statement is **CORRECT** about formal sector ?

- (a) There is no organisation to supervise credit activities of the formal sector.
(b) Cost of the loan to the borrower of formal loans is much higher.
(c) Only big businessmen are given loans.
(d) Low interest rate is charged.

श्रीधर एक सरकारी कार्यालय में कार्यरत है और ज़रूरत के समय वह औपचारिक क्षेत्र से ऋण पर निर्भर करता है।

निम्नलिखित में से कौन सा कथन औपचारिक क्षेत्र के बारे में सही है।

- (a) औपचारिक क्षेत्र की ऋण गतिविधियों की निगरानी / नियन्त्रण के लिए कोई संगठन नहीं है।
(b) औपचारिक ऋण के उधारकर्ता के लिए ऋण की लागत बहुत अधिक होती है।
(c) केवल बड़े कारोबारियों को ही कर्ज दिया जाता है।
(d) कम ब्याज दर वसूल की जाती है।

19. Which is the correct option for Classification based on the nature of activities ? 1

- (a) Organised and Unorganised Sector
- (b) Public Sector and Private Sector
- (c) Primary, Secondary and Tertiary Sector
- (d) None of these

निम्नलिखित में से कौन सा कथन प्राकृतिक संसाधनों के प्रत्यक्ष उपयोग पर आधारित गतिविधियाँ दर्शाता है।

- (a) संगठित एवम् असंगठित क्षेत्रक
- (b) सार्वजनिक और निजी क्षेत्रक
- (c) प्राथमिक, द्वितीयक एवम् तृतीयक क्षेत्रक
- (d) इनमें से कोई नहीं

20. Consider the following statements and select the correct code : 1

Statement I : Globalisation is the process of rapid integration or interconnection between countries.

Statement II : Slow improvement in technology has been a major factor that has stimulated the globalisation process.

- (a) Statement I is true and Statement II is false.
- (b) Statement I is false but Statement II is true.
- (c) Both Statements I and II are true.
- (d) Both Statements I and II are false.

दिए गए कथनों पर विचार करें और सही कोड चुनें।

कथन-I : विभिन्न देशों के बीच परस्पर संबंध और तीव्र एकीकरण की प्रक्रिया ही वैश्वीकरण है।

कथन-II : प्रौद्योगिकी में धीमा सुधार वह मुख्य कारक है जिसने वैश्वीकरण की प्रक्रिया को उत्प्रेरित किया।

- (a) कथन-I सही है और कथन-II गलत है।
- (b) कथन-I गलत है परन्तु कथन-II सही है।
- (c) दोनों कथन-I और कथन-II सही हैं।
- (d) दोनों कथन-I और कथन-II गलत हैं।

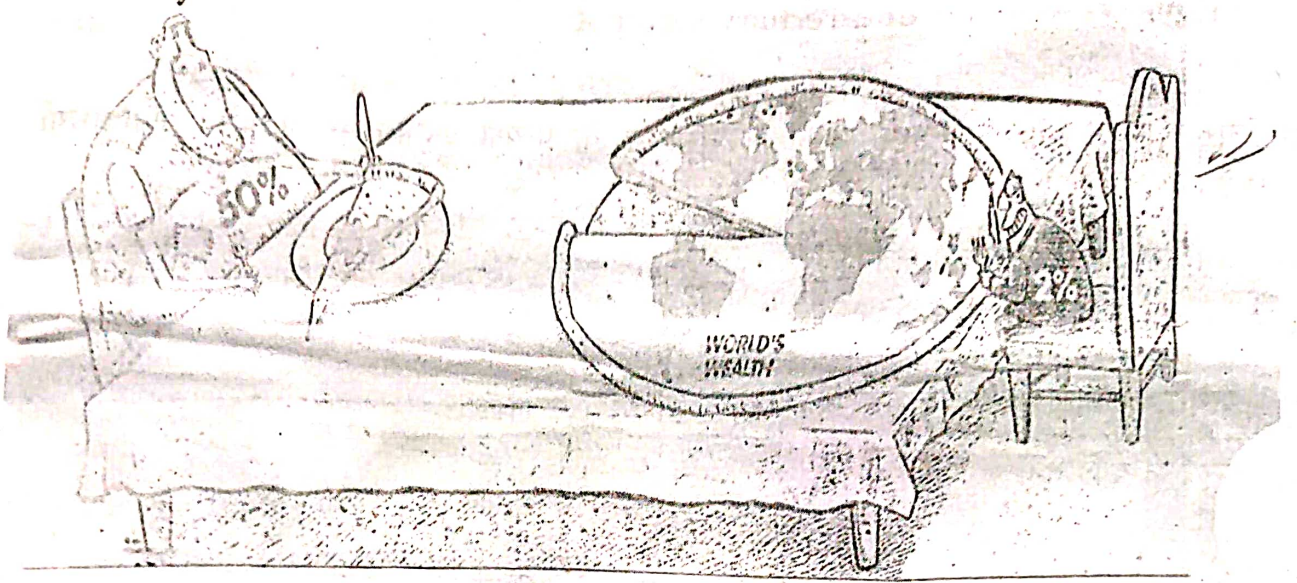
SECTION - B / खण्ड - ख

Very short answer questions / अति लघु उत्तरीय प्रश्न

2x4=8

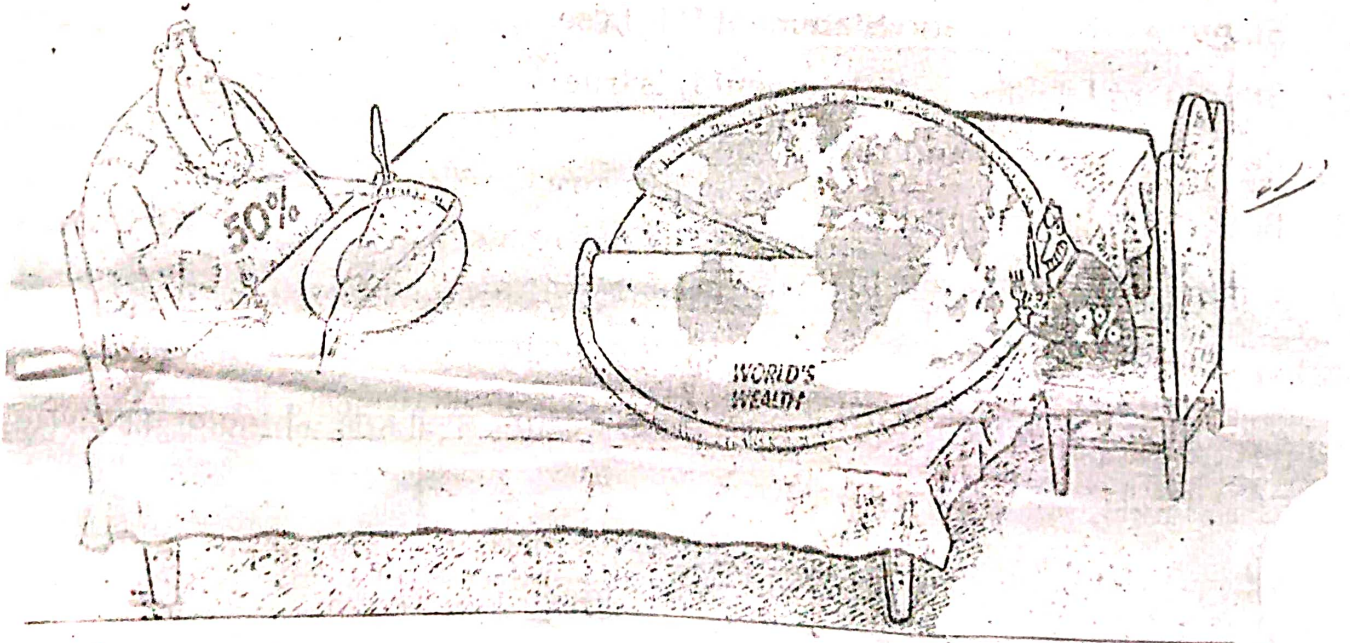
1+1=2

21. Study the given picture and answer the questions given below :



- (a) What do you understand by that 'democracy which is based on political equality' ?
- (b) Who according to the given picture enjoys a highly disproportionate share of wealth and income ?

दिए गए चित्र का अध्ययन करें और नीचे लिखे हुए प्रश्नों का उत्तर लिखें।



- (a) लोकतन्त्र राजनीतिक समानता पर आधारित है- आप इससे क्या समझते हैं ?
- (b) दिए गए चित्र के अनुसार कौन धन और आय में अत्याधिक असंगत हिस्सेदारी का आनंद लेता है।

22. What do you understand by economic liberalism ? Mention any two examples.
आर्थिक उदारवाद से आप क्या समझते हैं ? किन्हीं दो उदाहरणों का उल्लेख करें। 1+1=2
23. How Bio-gas is considered an efficient source of energy ?
बायो-गैस किस प्रकार ऊर्जा का कुशल स्रोत है ? 2
24. Mention any two features of MGNREGA 2005.
मनरेगा 2005 की किन्हीं दो विशेषताओं का उल्लेख करें। 2

SECTION - C / खण्ड - ग

Short Answer Questions / लघु उत्तरीय प्रश्न

3x5=15

25. Who designed the 'Swaraj flag' ? Explain any two features of this flag.
स्वराज ध्वज किसने तैयार किया था ? इस ध्वज की किन्हीं दो विशेषताओं की व्याख्या कीजिए। 1+2=3
26. Mr. Rakesh was a regular worker in a small factory. He was not paid his wages properly and the factory did not follow the factory rules and regulations stated by the Government. Recently he lost his job and was found selling electrical items in a pushcart.
Analyze the role of Government in protecting the workers like Rakesh.
राकेश एक छोटी फैक्टरी में एक नियमित श्रमिक था। उन्हें उनकी मजदूरी ठीक से नहीं दी गई और फैक्टरी द्वारा नियमों और विनियमों का पालन नहीं किया गया। हाल ही में उनकी नौकरी छूट गई और उन्हें एक ठैले पर छोटे इलेक्ट्रानिक सामान बेचते हुए पाया गया।
राकेश जैसे श्रमिकों की सुरक्षा में सरकार की भूमिका का विश्लेषण करें। 3

OR/अथवा

Shalini works in a private sector company. Mention two features of private sector and give examples of any two private sector industries.

शालिनी एक निजी क्षेत्रक कंपनी में काम करती है। निजी क्षेत्रक की दो विशेषताओं का उल्लेख करें और निजी क्षेत्रक उद्योगों के कोई दो उदाहरण दीजिए।

27. "India has fairly rich and varied mineral resources across different regions".
Support the statement with examples.
'भारत अच्छे और विविध प्रकार के खनिज संसाधनों में सौभाग्यशाली है, यद्यपि इनका वितरण असमान है।' उपयुक्त उदाहरणों के साथ कथन का समर्थन करें। 3

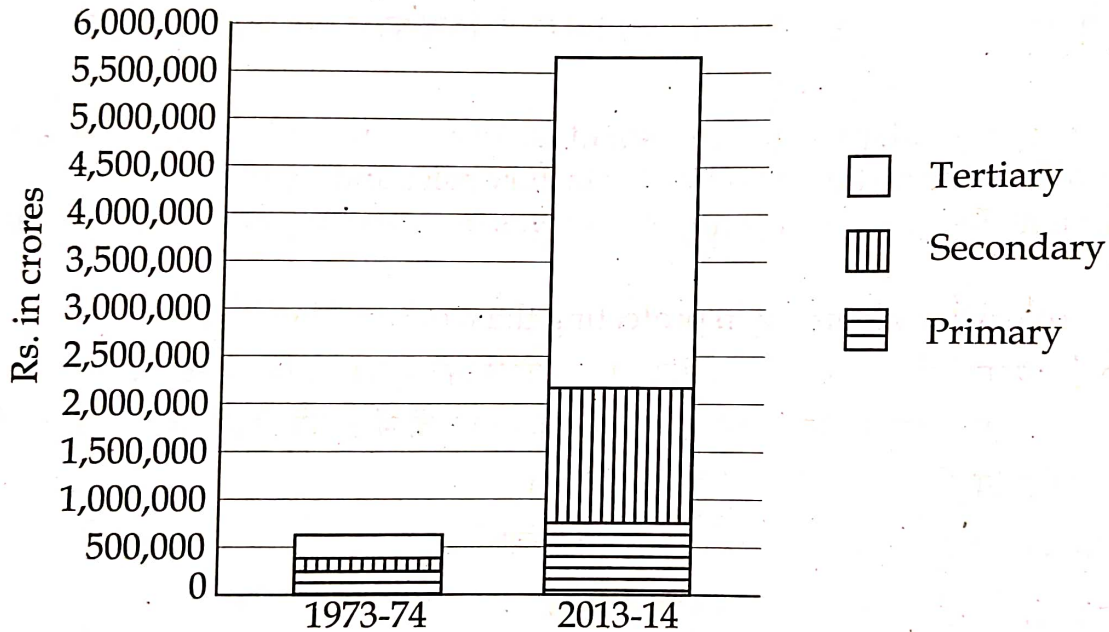
28. How is democracy accountable and responsive to the needs and expectations of the citizens? Analyse it. 3

लोकतन्त्र नागरिकों की ज़रूरतों और अपेक्षाओं के प्रति किस तरह से जवाबदेह और उत्तरदायी है? विश्लेषण करें।

29. Analyze the given comparative graph and answer the questions given below : 1+2=3

दिए गए तुलनात्मक ग्राफ का विश्लेषण करें और दिए गए प्रश्नों के उत्तर दें।

Graph 1 : GDP by Primary, Secondary and Tertiary Sector



- (a) Define GDP.

सकल घरेलु उत्पाद को परिभाषित करें।

- (b) Mention any two reasons why the Tertiary sector is becoming important in India.

किन्हीं दो कारणों का उल्लेख करें कि भारत में तृतीयक क्षेत्रक क्यों महत्वपूर्ण होता जा रहा है।

SECTION - D/खण्ड - घ

Long Answer Questions/दीर्घ उत्तरीय प्रश्न

5x4=20

30. 'Culture has played an important role in the development of Nationalism in Europe during the 18th and 19th century'. Support the statement with suitable examples. 5

'18वीं और 19वीं शताब्दी के दौरान यूरोप में राष्ट्रवाद के विकास में संस्कृति ने महत्वपूर्ण भूमिका निभाई है।' उपयुक्त उदाहरणों के साथ कथन का समर्थन करें।

OR/अथवा

'In Britain the formation of the nation-state was not the result of a sudden upheaval or revolution. It was the result of a long-drawn out process'. Explain the given Statement with the help of appropriate examples.

'ब्रिटेन में राष्ट्र-राज्य का निर्माण अचानक हुई ये कोई उथल-पुथल या क्रांति का परिणाम नहीं था। यह एक लंबी चलने वाली प्रक्रिया का नतीजा था।' उपयुक्त उदाहरणों की सहायता से दिए गए कथन की व्याख्या कीजिए।

31. What do you mean by the term Manufacturing? Describe the importance of Manufacturing Industries as a backbone of economic development of the country. 1+4=5

विनिर्माण की परिभाषा लिखें। विनिर्माण उद्योग को भारत के आर्थिक विकास की रीढ़ की हड्डी क्यों माना जाता है?

OR/अथवा

How can we say that the chemical industry in India is fast growing and diversifying? Support your answer with relevant points. 5

हम कैसे कह सकते हैं कि 'भारत में रसायन उद्योग तेजी से विकसित हो रहा तथा फैल रहा है'? उपयुक्त उत्तर के साथ कथन का समर्थन करें।

32. What is a political party ? Mention two features each of one-party and two-party system.

1+2+2=5

राजनीतिक दल क्या है ? एकदलीय शासन व्यवस्था और बहुदलीय शासन व्यवस्था की दो-दो विशेषताओं का उल्लेख करें।

OR /अथवा

What challenges are faced by political parties ? Mention any two suggestions to reform political parties.

3+2=5

राजनीतिक दलों को किन चुनौतियों का सामना करना पड़ता है ? राजनीतिक दलों में सुधार के लिए किन्हीं दो सुझावों का उल्लेख करें।

33. Why is it necessary for the banks and cooperative societies to increase their lending facilities in rural areas ? Explain. 5

बैंकों और सहकारी समितियों के लिए अपनी ऋण सुविधाओं को ग्रामीण क्षेत्रों में वृद्धि करना क्यों आवश्यक है ? व्याख्या कीजिए।

OR /अथवा

Why are the deposits in the banks called 'demand deposits' ? What are the benefits of deposits with the banks ?

1+4=5

बैंकों में जमा को 'माँग जमा' क्यों कहते हैं ? बैंकों में जमा करने के क्या लाभ हैं ?

SECTION - E/खण्ड - ड

Case Study Based Questions/केस आधारित प्रश्न

4x3=12

34. Read the passage and answer questions that follow :

4

Not everyone welcomed the printed book, and those who did also had fears about it. Many were apprehensive of the effects that the easier access to the printed word and the wider circulation of books could have on people's minds. It was feared that if there was no control over what was printed and read then rebellious and irreligious thoughts might spread. If that happened the authority of 'valuable' literature would be destroyed. Expressed by religious authorities and monarchs, as well as many writers and artists, this anxiety was the basis of widespread criticism of the new printed literature that had begun to circulate. Print and popular religious literature stimulated many distinctive individual interpretations of faith even among little-educated working people.

- (a) Why were there fears of the printed book ? 1
- (b) What were the implications of print on religion ? 1
- (c) Who was the 16th century reformer who criticised the practices and rituals of the Roman Catholic Church ? Name the religious movement initiated by him. 2

दिए गए उद्धरण को पढ़ें और उसके बाद आने वाले प्रश्नों के उत्तर दें -

हर कोई मुद्रित किताब को लेकर खुश नहीं था, जिन्होंने इसका स्वागत भी किया, उनके मन में इसको लेकर कई डर थे। कई लोगों को छपी किताब के व्यापक प्रसार और छपे शब्द की सुगमता को लेकर यह आशंका थी कि न जाने इसका आम लोगों के जेहन पर क्या असर हो। भय था कि अगर छपे हुए और पढ़े जा रहे पर कोई नियंत्रण न होगा तो लोगों में बागी और अधार्मिक विचार पनपने लगेंगे। अगर ऐसा हुआ तो 'मूल्यवान' साहित्य की सत्ता ही नष्ट हो जाएगी। धर्मगुरुओं और सम्राटों तथा कई लेखकों एवं कलाकारों द्वारा व्यक्त की गई यह चिंता नव-मुद्रित और नव-प्रसारित साहित्य की व्यापक आलोचना का आधार बनी। छपे हुए लोकप्रिय साहित्य के बल पर कम शिक्षित लोग धर्म की अलग-अलग व्याख्याओं से परिचित हुए।

- (a) मुद्रित किताब को लेकर कई डर क्यों थे ? 1
- (b) मुद्रित का धर्म पर क्या असर हुआ ? 1
- (c) सोलहवीं शताब्दी के धर्म सुधारक कौन थे जिन्होंने रोमन कैथलिक चर्च की कुरीतियों की आलोचना की ? उनके द्वारा कौन से धर्म सुधार का आंदोलन शुरू किया ? 2

35. Read the given extract and answer the following questions :

Given the abundance and renewability of water, it is difficult to imagine that we may suffer from water scarcity. The moment we speak of water shortages, we immediately associate it with regions having low rainfall or those that are drought prone. We instantaneously visualise the deserts of Rajasthan and women balancing many 'matkas' (earthen pots) used for collecting and storing water and travelling long distances to get water. True, the availability of water resources varies over space and time, mainly due to the variations in seasonal and annual precipitation, but water scarcity in most cases is caused by over exploitation, excessive use and unequal access to water among different social groups.

- (a) Analyse that water availability varies over space and time. 1
- (b) Highlight one reason that is responsible for deserts. 1
- (c) Suggest any two ways to combat water scarcity. 2

दिए गए उद्धरण को पढ़ें और उसके बाद आने वाले प्रश्नों का उत्तर दें -

जल के विशाल भंडार और इसके नवीकरण योग्य गुणों के होते हुए यह सोचना भी मुश्किल है कि हमें जल दुर्लभता का सामना करना पड़ सकता है। जैसे ही हम जल की कमी की बात करते हैं तो हमें तत्काल ही कम वर्षा वाले क्षेत्रों या सूखाग्रस्त इलाकों का ध्यान आता है। हमारे मानस पटल पर तुरंत राजस्थान के मरुस्थल और जल से भरे मटके संतुलित करती हुई और जल भरने के लिए लंबा रास्ता तय करती पानिहारिणियों के चित्र चित्रित हो जाते हैं। यह सच है कि वर्षा में वार्षिक और मौसमी परिवर्तन के कारण जलसंसाधनों की उपलब्धता में समय और स्थान के अनुसार विभिन्नता है। परन्तु अधिकतया जल की कमी इसके अतिशोषण, अत्यधिक प्रयोग और समाज के विभिन्न वर्गों में जल के असमान वितरण के कारण होती है।

- (a) जल संसाधनों की उपलब्धता में स्थान और समय के अनुसार विभिन्नता है। विश्लेषण करें। 1
- (b) किसी एक कारण पर प्रकाश डालिए जो मरुस्थल के लिए उत्तरदायी है। 1
- (c) जल की कमी से निपटने के लिए कोई दो उपाय सुझाइए। 2

36. Read the extract and answer the questions :

4

The Constitution originally provided for a two-tier system of Government, the Union Government or what we call the Central Government, representing the Union of India and the State governments. Later, a third tier of Federalism was added in the form of Panchayats and Municipalities. As in any federation, these different tiers enjoy separate jurisdiction. The Constitution clearly provided a three-fold distribution of legislative powers between the Union Government and the State Governments.

(a) What are Municipalities ?

1

(b) Define Jurisdiction.

1

(c) Name two subjects each, included in Union list and State list.

2

दिए गए उद्धरण को पढ़ें और उसके बाद आने वाले प्रश्नों का उत्तर दें -

संविधान ने मौलिक रूप से दो स्तरीय शासन व्यवस्था का प्रावधान किया था- संघ सरकार (या हम जिसे केंद्र सरकार कहते हैं) और राज्य सरकारें। केंद्र सरकार को पूरे भारतीय संघ का प्रतिनिधित्व करना था। बाद में पंचायतों और नगरपालिकाओं के रूप में संघीय शासन का एक तीसरा स्तर भी जोड़ा गया। किसी भी संघीय व्यवस्था की तरह अपने यहाँ भी तीनों स्तर की शासन व्यवस्थाओं के अपने अलग-अलग अधिकार क्षेत्र हैं। संविधान में स्पष्ट रूप से केन्द्र और राज्य सरकारों के बीच विधायी अधिकारों को तीन हिस्से में बाँटा गया है।

(a) नगरपालिका क्या है ?

1

(b) अधिकार - क्षेत्र को परिभाषित करें।

1

(c) संघसूची और राज्य सूची में सम्मिलित दो-दो विषयों के नाम लिखिए।

2

SECTION - F / खण्ड - च

Map Skill Based Question / मानचित्र कौशल आधारित प्रश्न

37. (A) Two features (A) & (B) are marked on the given outline political map of India. Identify these features with the help of the following information and write their correct names on the lines marked near them.

2

(a) The place where Indigo Planters Movement took place.

(b) The place where Jallianwala massacre took place.

दो स्थान (A) और (B) दिए गए भारत के रेखा-मानचित्र पर अंकित किए गए हैं। इन्हें पहचानिये और उनके सही नाम उनके समीप खींची गई रेखाओं पर लिखिए :

(a) वह स्थान जहाँ पर नील बागान मालिकों का आंदोलन हुआ।

(b) वह स्थान जहाँ जलियाँवाला बाग काण्ड हुआ था।

(B) On the outline map of India, locate and label any three of the following with suitable symbols. 3

- (i) Meenambakkam Airport
- (ii) Namrup Thermal Power Plant
- (iii) Vishakhapatnam Sea Port
- (iv) Largest cotton producing State. Identify it.

दिए गए भारत के रेखा-मानचित्र पर निम्नलिखित में से किन्हीं तीन को उपयुक्त चिन्हों से दर्शाए और उनके नाम लिखिए :

- (i) मीनमबक्कम हवाई पत्तन
- (ii) नामरूप ताप विद्युत संयंत्र
- (iii) विशाखापटनम समुद्री बंदरगाह
- (iv) कपास के सबसे बड़े उत्पादक राज्य की पहचान कीजिए।

Note: The following questions are for visually impaired candidates only in lieu of Q.No. 37. Attempt any 5 questions.

नोट : निम्नलिखित प्रश्न केवल दृष्टिबाधित परीक्षार्थियों के लिए प्रश्न संख्या 37 के स्थान पर है। किन्हीं पाँच प्रश्नों का उत्तर लिखिए :

37.1 Name the State where Congress Session was held in September 1920. 5

उस राज्य का नाम लिखिए जहाँ सितम्बर 1920 में कांग्रेस का अधिवेशन हुआ था।

37.2 Name the State where Bhilai Iron and Steel Plant is located.

उस राज्य का नाम लिखिए जहाँ भिलाई लोहा और इस्पात संयंत्र स्थित है।

37.3 Name the State where Naraura Thermal Power Plant is located.

उस राज्य का नाम लिखिए जहाँ नरोरा ताप विद्युत संयंत्र स्थित है।

37.4 Name the State where Chhatrapati Shivaji Airport is located.

उस राज्य का नाम लिखिए जहाँ छत्रपति शिवाजी हवाई पत्तन स्थित है।

37.5 Name the State where Vishakapatnam port is located.

उस राज्य का नाम लिखिए जहाँ विशाखापटनम समुद्री पत्तन स्थित है।

37.6 Name the State where Hirakud dam is located.

उस राज्य का नाम लिखिए जहाँ हीराकुड बांध स्थित है।

- o O o -

Map for Q.No. 37.

नक्शा प्रश्न संख्या 37 के लिए।

